
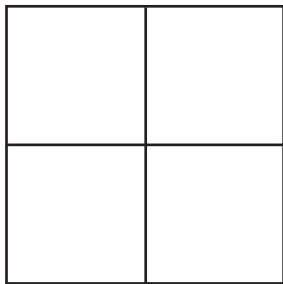


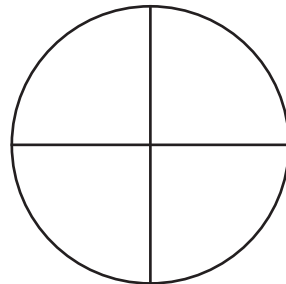
1. Zapisz słownie liczby.



2. Pokoloruj każdą figurę zgodnie z poleceniami.



Pokoloruj ćwierć figury.




Pokoloruj pół figury.

3. Pokoloruj pół tabliczki czekolady i uzupełnij zdania.



Ćwierć tabliczki czekolady to  równych kawałków.

Pół tabliczki czekolady to  równych kawałków.

4. Uzupełnij zdania odpowiednimi liczbami.

Pół godziny to jest

 minut.

Pół roku to jest

 miesięcy.

Pół kilograma to jest

 dekagramów.

Pół metra to jest

 centymetrów.

Pół kilometra to jest

 metrów.

5. Rozwiąż zadanie i napisz odpowiedź.

Do zapiekanki mama potrzebuje ćwierci kilograma pieczarek. Tata kupił 30 dag pieczarek. Czy mamie wystarczy pieczarek na przygotowanie zapiekanki?

--

Odp.:

--

6. Rozwiąż zadanie. Podkreśl zdania, które na pewno są prawdziwe.


Krzysiek ćwiczył czytanie co najmniej 10 minut dziennie przez cały tydzień. Ile minut przez tydzień poświęcił Krzysiek na ćwiczenie czytania?


- Krzysiek przez tydzień poświęcił na czytanie ponad godzinę.
- Krzysiek przez tydzień poświęcił na czytanie mniej niż godzinę.
- Krzysiek przez tydzień poświęcił na czytanie co najmniej 70 minut.
- Krzysiek przez tydzień poświęcił na czytanie dokładnie 70 minut.


1. Uzupełnij zdania liczebnikami zgodnie z liczbami podanymi w nawiasach.


W zawodach sportowych wzięło udział (11) _____
dziewcząt i (12) _____ chłopców. Beata przybiegła na metę
jako (4) _____, a Franek jako (20) _____.


2. Podpisz rysunki właściwymi nazwami roślin.















3. Otocz pętlą rysunek przedstawiający niedźwiedzia, który żyje w Polsce –
w Tatrach i Bieszczadach.



4. Wybierz nazwy świąt z ramki i napisz je przy odpowiednich datach. Podkreśl nazwę święta, którym upamiętniamy kolejną rocznicę uchwalenia konstytucji.

Dzień Flagi Rzeczypospolitej Polskiej ● Święto Pracy ● Dzień Dziecka
● Święto Narodowe Trzeciego Maja ● Dzień Matki

1 maja – _____

2 maja – _____

3 maja – _____

5. Uzupełnij informacje dotyczące stolicy Polski.



Na mapie stolicę Polski
oznaczono numerem ____ .

Stolicą Polski jest miasto _____ .

Stolica jest najważniejszym miastem w kraju, ponieważ
znajdują się w niej _____ .

Przez stolicę Polski przepływa rzeka _____ .

Kraina geograficzna, w której znajduje się stolica Polski, nazywa się

_____ .

6. Odpowiedz na pytania. Podkreśl poprawne odpowiedzi.

Kiedy wynaleziono papier?

- 20 lat temu.
- 200 lat temu.
- 2000 lat temu.

Z czego przede wszystkim obecnie produkowany jest papier?

- Z drzew.
- Z rośliny papirus.
- Z plastiku.

Dlaczego oddajemy zużyty papier na makulaturę?

- Aby było wokół czysto.
- Aby zapobiec nadmiernemu wycinaniu drzew.
- Aby chronić zwierzęta.

7. Napisz w imieniu dzieci z klasy 3 ogłoszenie o wystawie plastycznej „Portrety naszych mam”. Wykorzystaj informacje z ramki.

30 maja ● o godzinie 12.00 ● w sali nr 10 ●
z okazji Dnia Matki ● wszystkich uczniów
